

平成29年度 入学試験問題

# 社会・国語

(50分)

(社会50点・国語100点)

受験 番号		氏  名	
----------	--	------------	--

注意事項

- ① 監督の指示があるまで中を開けないこと。
- ② 解答は、全て「解答用紙」に記入すること。  
※ 字数制限がある問題は、句読点・記号も字数に含む。
- ③ 質問（印刷不明のところ）がある、鉛筆などを落とした、トイレに行きたくなった、気持ちが悪くなった、などの場合は静かに手をあげること。
- ④ 携帯電話は、音が出ないよう電源を切るかバッテリーをはずし、カバンにしまっておくこと。
- ⑤ 「国語」の問題は裏の表紙の側から始まります。



名古屋経済大学市邨中学校

1 次の問いに答えなさい。

問1 今から約5500年前に今の青森県でさかえた縄文時代の遺跡は何ですか。

問2 卑弥呼が使者を送ったときの中国の国名を次のア～エの中から1つ選び、記号で答えなさい。

ア 隋      イ 唐      ウ 魏      エ 漢

問3 5世紀は西暦何年から何年までですか。

2 次の表を見て、以下の問いに答えなさい。

年代	主な出来事
8世紀はじめ	奈良時代が始まる・・・あ
794	京都に都がうつされる・・・い
11世紀ころ	藤原氏が全盛時代をむかえる・・・う
12世紀末	鎌倉時代が始まる・・・え

問1 表中のあについて、以下の問いに答えなさい。

①この都を何といいますか。

②奈良に都がうつされたのは何年のことですか。

問2 表中のいについて、この都を何といいますか。

問3 表中のうについて、以下の問いに答えなさい。

①藤原氏は天皇家と親せきになり、朝廷の高い位につき、天皇にかわって政治を行いました。この政治を何政治といいますか。

②このころ生まれて栄えた文化として、適切ではないものを次のア～エの中から1つ選び、記号で答えなさい。

ア 万葉集がへんさんされた。

イ 紫式部が『源氏物語』を書いた。

ウ 清少納言が『枕草子』を書いた。

エ ひらがなができ、主に女性によって用いられた。

問4 表中のえについて、征夷大將軍となり鎌倉幕府をひらいた人物はだれですか。

3 次の文章を読み、以下の問いに答えなさい。

①2度にわたる外国の侵襲の後、鎌倉幕府はほろびました。しばらく続いた戦乱の後、足利尊氏が京都に②幕府をひらきました。この幕府の後期は幕府の力がおとろえて③戦国時代となりましたが、一方で、特色ある文化が生まれた時代でもありました。

問1 文章中の下線部①について、このとき鎌倉幕府の中心だった人物を次のア～エの中から1つ選び、記号で答えなさい。

ア 平清盛      イ 足利義満      ウ 北条時宗      エ 楠木正成

問2 文章中の下線部②について、この幕府を何といいますか。

問3 文章中の下線部③について、この時代に全国を平定し、京都の桃山と大坂に城をたてたのはだれですか。

4 次の問いに答えなさい。

問1 江戸時代に、外国とのつきあいが制限された後も、長崎で貿易関係が続いた国を次のア～エの中から1つ選び、記号で答えなさい。

ア イギリス      イ オランダ      ウ ポルトガル      エ フランス

問2 1858年、アメリカと日本のあいだでむすばれた、裁判や貿易に関する内容で不平等だった条約を何といいますか。

問3 現在の山口県にあって、江戸幕府をたおす中心となったのは何藩ですか。

問4 江戸幕府がたおされ、新しく定められた元号は何ですか。

5 次の年表を見て、以下の問いに答えなさい。

年代	日本のおもな出来事
1874	<small>いたがきたいすけ けんぼくしよ</small> 板垣退助が建白書を提出する・・・あ
1889	<small>だいにほんていこく ほつぷ</small> 大日本帝国憲法が発布される・・・い
1905	ポーツマス条約がむすばれる・・・う
1910	( X )を植民地にする・・・え

問1 年表中のあについて、以後さかんになった、国会をひらくことを求める運動を何といいますか。

問2 年表中のいについて、このとき手本とされたのは、どこの国の憲法ですか。次のア～エの中から1つ選び、記号で答えなさい。

ア イギリス      イ アメリカ      ウ ドイツ      エ ロシア

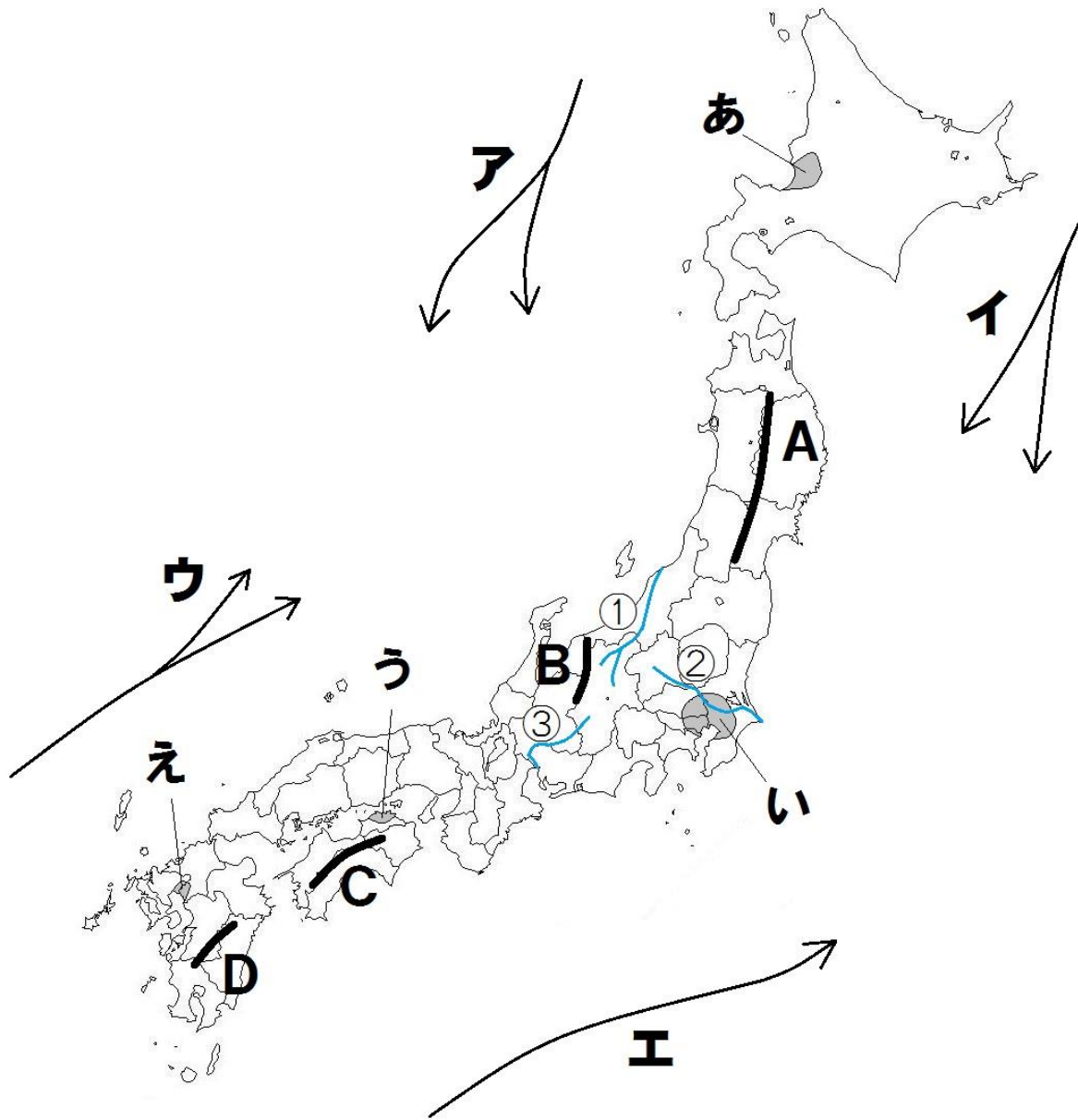
問3 年表中のうについて、この条約の相手国を次のア～エの中から1つ選び、記号で答えなさい。

ア ロシア      イ 清      ウ フランス      エ ドイツ

問4 年表中のえについて、( X )に入る国を次のア～エの中から1つ選び、記号で答えなさい。

ア 台湾      イ 香港      ウ 韓国      エ 中国

6 次の地図を見て、以下の問いに答えなさい。



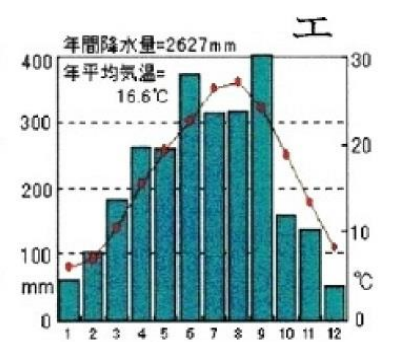
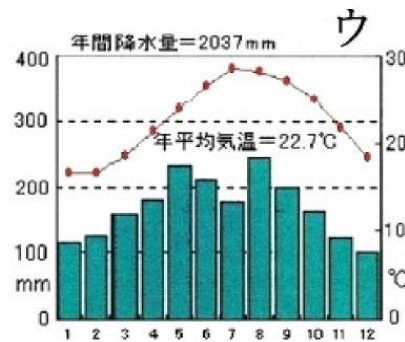
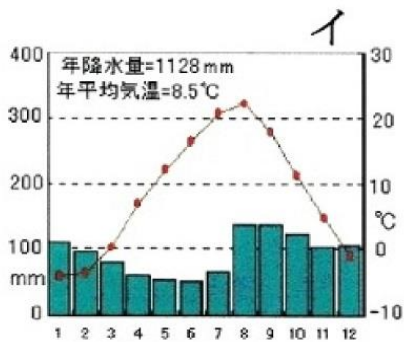
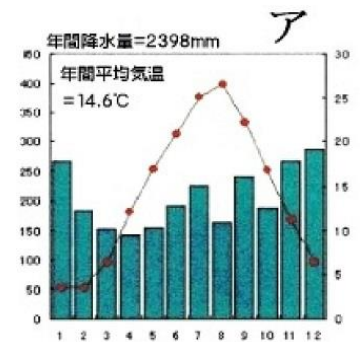
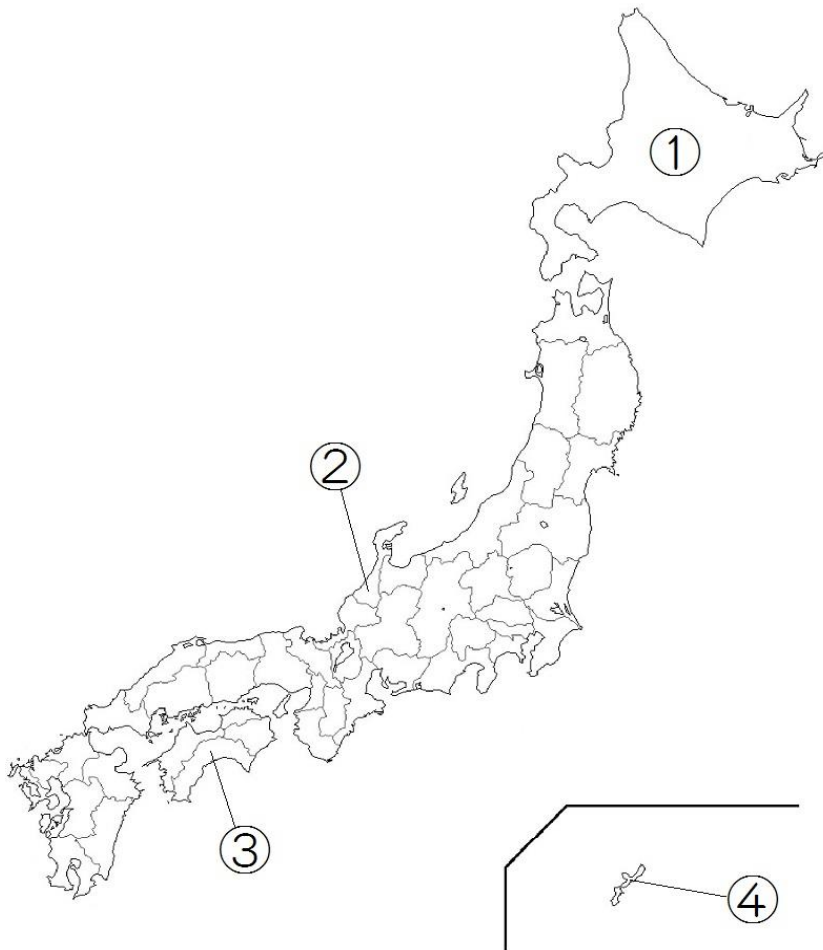
問1 地図中の山地・山脈A~Dのうち、東北地方と九州地方にある山地・山脈をそれぞれ選び、記号と名前を答えなさい。

問2 地図中の河川①~③のうち、関東地方を流れている川を選び、記号と名前を答えなさい。

問3 地図中の平野あ~えのうち、中国・四国地方にある平野を選び、記号と名前を答えなさい。

問4 地図中の海流ア~エの名前をすべて答えなさい。

7 次の雨温図は地図中の①～④のいずれかの都道府県のもので。これを見て以下の問いに答えなさい。



問1 地図中①～④の都道府県の雨温図として適切なものをア～エの中からそれぞれ選び、答えなさい。

問2 次の文章は、地図中の①～④のどの都道府県についてのべたものですか。それぞれ記号で答えなさい。

- A あたたく雨が非常に多い気候で、なすの生産がさかんである。
- B エイサーなどの伝統芸能が受けつがれている。
- C 農業がさかんで、じゃがいもやたまねぎなどの生産は日本一である。
- D 市内を流れる河川を利用して、加賀友禅が制作されている。

8 次の文章を読み、以下の問いに答えなさい。

わたしたちの生活は今日、とても豊かになりましたが、さまざまな問題点も見られます。

日本は A.食料 や B.エネルギー など、生活に必要なものの多くを海外の国々にたよっています。必要な貿易を続けていくためにも、わたしたちは海外の国々と良い関係をつくり、保っていかなくてはなりません。

また今後、日本では C.総人口 に占める高齢者の割合が増加し、子どもの割合が減っていく少子高齢化がすすむと考えられます。将来の労働力不足や、年金の問題につながることを考えられるため、注意が必要です。

問1 文章中の下線部 **A** について、日本が完全に自給できている食品を次の **ア**～**エ** の中から 1 つ選び、記号で答えなさい。

**ア** 大豆      **イ** 小麦      **ウ** 牛肉      **エ** 米

問2 文章中の下線部 **B** について、次の問いに答えなさい。

①日本の供給電力のうち、もっとも発電量が多い発電方法を次の **ア**～**エ** の中から 1 つ選び、記号で答えなさい。

**ア** 火力発電      **イ** 原子力発電      **ウ** 水力発電      **エ** 太陽光発電

②日本がもっとも多く石油を輸入している国を次の **ア**～**エ** の中から 1 つ選び、記号で答えなさい。

**ア** アメリカ合衆国      **イ** カナダ      **ウ** オーストラリア      **エ** サウジアラビア

問3 文章中の下線部 **C** について、日本の総人口として現在もっとも近いものを次の **ア**～**エ** の中から 1 つ選び、記号で答えなさい。

**ア** 1 億人      **イ** 1 億 3000 万人      **ウ** 1 億 5000 万人      **エ** 1 億 7000 万人