

1 次の文章を読んで、あとの(1)から(3)までの問いに答えなさい。

昨年、大阪にある百舌鳥(もず)・古市古墳群が世界遺産に登録された。両古墳群中、最大規模を誇るのが古市古墳群中にある(①)古墳である。(①)古墳は墳丘部の直径が486mもある巨大な墓であり、当時の(②)の権力を見せつけるものであった。

(①)古墳が築造された5世紀代は、倭国が中国や朝鮮半島の国々と盛んに外交を行った時代であり、倭国から使者が派遣されたのみではなく、朝鮮半島の国々からも多くの使者が倭国を訪れた。また、半島から日本へ移り住む(③)も数多くいた。当時の朝鮮半島では半島北部にあった高句麗が強大化し、半島南部へ勢力を拡大していた。倭国は半島南西部に位置していた(④)と友好関係を結び高句麗と対抗していたため、大王は国内における自らの地位の保障や、朝鮮半島における倭国の影響力を高めるために、中国の皇帝の権威を利用したことが想定される。

(①)古墳は築造当時、現在の大阪湾からも見ることができ、海上交通路を利用して倭国の都を訪れた人達を圧倒したことがうかがえる。また、百舌鳥古墳群も大和川の近くに形成されており、船上からその威容を眺めることができた。まさに、これら2つの古墳群は「見せるための古墳群」であった。

(1) 文章中の(①)から(④)に入る用語として最も適切な組み合わせを、次のアからエまでの中から選んで、そのかな符号を書きなさい。

- |   |       |        |       |      |
|---|-------|--------|-------|------|
| ア | ① 大山  | ② 大和王権 | ③ 渡来人 | ④ 百済 |
| イ | ① 稻荷山 | ② 大和王権 | ③ 南蛮人 | ④ 新羅 |
| ウ | ① 大山  | ② 邪馬台国 | ③ 渡来人 | ④ 新羅 |
| エ | ① 稻荷山 | ② 邪馬台国 | ③ 南蛮人 | ④ 百済 |

(2) 5世紀代、百舌鳥・古市古墳群のある大阪平野には多数の巨大古墳が築造された。では、なぜこの時代に多くの巨大古墳がこの地域に築造されたと考えられるか。上の文章を参考にして答えなさい。

(3) 巨大古墳の築造に見られるように、大阪は古くから日本の先進地域であり、その後も発展を続けた。大阪の歴史について述べた次の文のうち、間違っているものを次のアからエまでの中から1つ選んで、そのかな符号を書きなさい。

- ア 飛鳥時代には聖徳太子によって四天王寺が建てられた。
- イ 戦国時代には鉄砲の産地を抱えて経済的に発展し、千利休などの文化人を生んだ。
- ウ 江戸時代には各藩の蔵屋敷が立ち並び、「天下の台所」として栄えた。
- エ 明治時代には官営八幡製鉄所が建てられ、製鉄所を中心に工業地帯が形成された。

2 次のⅠ，Ⅱ，Ⅲの資料を見て，あとの（１）から（３）までの問いに答えなさい。

<p>Ⅰ オリンピック開催を告知するために制作されたポスター 「ⅩⅡ OLYMPIAD TOKYO 1940」と記されている。</p>	<p>Ⅱ 1965年に三重県で撮られた写真マスクをする子どもと工場から出る煙。</p>
---	---

Ⅲ

年号	オリンピックの開催地	オリンピックに関する出来事	年号	主な出来事
紀元前 776年	ギリシア	記録に残る最古の古代オリンピックが開かれる。	紀元前 146年	ローマがギリシアを支配する。
紀元前 80年	ローマ	スッラが，オリンピア祭典競技を開催する。		
1896年	ギリシア	第1回目の近代オリンピックが開催される。		
1900年	パリ	女子選手が初参加する。	1914年	第1次世界大戦が始まる（～1918年）。
1916年	ベルリン	中止		
1936年	ベルリン	最初の聖火リレーが行われる。	1939年	第2次世界大戦が始まる（～1945年）。
1940年	東京	中止		
1964年	東京	南アフリカが参加を認められなくなる。	1979年	ソビエト連邦のアフガニスタン侵攻。
1980年	モスクワ	アメリカ，日本など西側諸国がボイコット。	1991年	ソビエト連邦崩壊。
1992年	バルセロナ	南アフリカが大会に復帰。		

(1) Iはオリンピック開催を告知するために制作されたポスターである。結局、このオリンピックは1938年に開催されないことが決定されたが、それはどのような社会背景があったと考えられるか。その説明として最も適当なものを、次のアからエまでの中から選んで、そのかな符号を書きなさい。

ア 米騒動により、全国の都市で米屋などが襲われ軍隊も出動したため。

イ 関東大震災により、東京が壊滅的な被害を受けたため。

ウ 日中戦争の長期化により、国際世論の非難が強くなり、かつ財政が厳しくなってきたため。

エ ロシア革命により、列強の協調体制が崩れたため。

(2) IIは1965年に三重県で撮られた写真である。この時期、日本は高度経済成長というめざましい経済発展を遂げる一方で、大きな社会問題が発生していた。それはどのようなものか。写真を参考に簡潔に答えなさい。

(3) IIIの年表を参考にして、オリンピックについて述べた文として正しいものを、次のアからオまでの中から全て選んで、そのかな符号を書きなさい。

ア 最初の古代オリンピックが開催されていた頃、日本では邪馬台国の卑弥呼が魏に使者を送っていた。

イ 近代オリンピックでは、最初から男女とも競技に参加できた。

ウ ドイツと日本の首都でのオリンピックは共に、中止されたことがあるものの、後の時代に開催されている。

エ 古代オリンピックと現代オリンピック共に、最初の開催地はギリシアである。

オ 1980年当時は冷戦のさなかで、アメリカと同じ陣営に属していた日本は、ソ連の首都であるモスクワで開かれたオリンピックに参加しなかった。

白紙のページ

3 次の会話文を読んで、あとの(1)から(3)までの問いに答えなさい。

さくら：来週金曜日，うちの学校休みだよ。

ただし：ぼくらの学校も休みだよ。大阪市内の学校は，ほとんど休みなんじゃないかな？

しのぶ：うらやましい。

ただし：うらやましくなんかないよ。世界中の首脳が大阪に来るから，その人たちの車が通るために交通規制でどこもかしこも通れない。大変だよ。

しのぶ：どうして世界中の首脳が大阪に来るの？

さくら：大阪でG20サミットが開催されるからだよ。

しのぶ：G20って，何年か前に伊勢志摩で開催されたよね？

ただし：違うよ。伊勢志摩で行われたのはG7サミットだよ。

さくら：G20とG7って何が違うの？

ただし：何がって言われると，数字じゃない？

しのぶ：数字だけ？ちょっとiPadで調べてみる。

しのぶ：こんなサイトがあったよ。G20の公式サイトだね。

「G20大阪サミット2019HP」

G20サミットの参加国、参加組織について書かれている。

「G20 大阪サミット 2019HP」

G20 サミット開催の経緯が書かれている。

さくら：なるほど。G7の会合でG20 財務大臣・中央銀行総裁会議の設立が合意されたってことは、  
G7に参加している国は、G20にも参加しているのかな？

しのぶ：G7の参加国は、フランス、アメリカ、イギリス、ドイツ、日本、イタリア、カナダだね。

さくら：確かに全部、G20にも参加してるね。

- (1) 会話文並びに、次の資料ⅠとⅡを見て、G7、G20の参加国について述べた文として最も適当なものを、次のアからエまでの中から選んで、そのかな符号を書きなさい。

- ア G7サミット参加国は、GDP上位7カ国で構成されている。  
 イ G20サミット参加国は、GDP上位20カ国で構成されているわけではない。  
 ウ G7サミット参加国と国際連合安全保障理事会の常任理事国は同一である。  
 エ G7サミット参加国の世界経済におけるGDPの割合は、8割以上を占めている。

Ⅰ 各地域及び国別の名目GDP(国内総生産)  
(2018年)

国・地域	名目GDP (億ドル)	GDP構成比 (名目)
アジア	266,215	31.0%
うち日本	49,709	5.8%
うち中国	136,082	15.9%
うち韓国	16,194	1.9%
うちインド	27,263	3.2%
米国	204,941	23.9%
カナダ	17,093	2.0%
オーストラリア	14,322	1.7%
E U28	187,486	21.9%
うちドイツ	39,968	4.7%
うちフランス	27,775	3.2%
うち英国	28,252	3.3%
うちイタリア	20,739	2.4%
うちユーロ圏	136,700	15.9%
ロシア	16,576	1.9%
中南米	57,873	6.7%
うちブラジル	18,686	2.2%
上記以外	93,402	10.9%
世界	857,908	100.0%

Ⅱ 名目GDP上位20カ国(2018年)

順位	国名	名目GDP (億ドル)
1	米国	204,941
2	中国	136,082
3	日本	49,709
4	ドイツ	39,968
5	英国	28,252
6	フランス	27,775
7	インド	27,263
8	イタリア	20,739
9	ブラジル	18,686
10	カナダ	17,093
11	ロシア	16,576
12	韓国	16,194
13	オーストラリア	14,322
14	スペイン	14,262
15	メキシコ	12,238
16	インドネシア	10,422
17	オランダ	9,129
18	サウジアラビア	7,825
19	トルコ	7,665
20	スイス	7,055

(外務省経済局国際経済課「主要経済指標」2019年7月より作成)

- (2) G20参加国と名目GDP上位20カ国に共通してふくまれる国について、ヨーロッパ州の国は何カ国あるか。また、インドネシアを除いて首都が南半球にある国は何カ国あるか。それぞれ算用数字で答えなさい。
- (3) 会話文中にあるG20の公式サイト「G20サミット開催」の経緯を踏まえた上で、G20の参加国(地域)をさらに増やすとしたら、どの国(地域)を入れるか。また、その理由を書きなさい。

白紙のページ



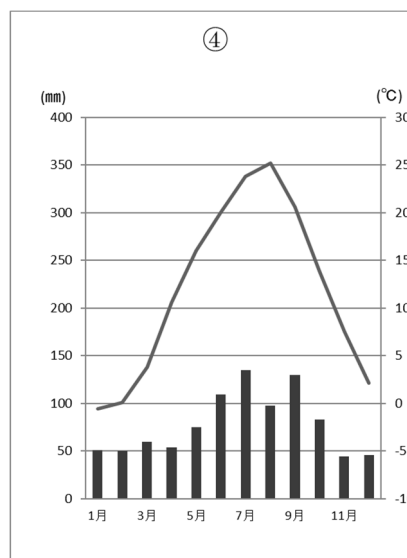
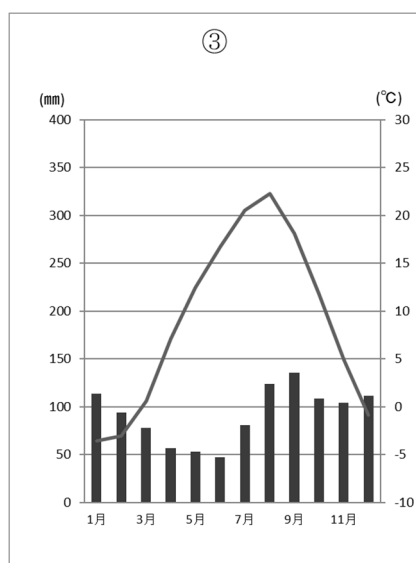
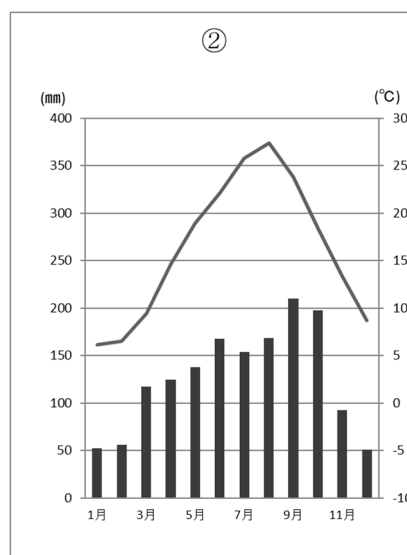
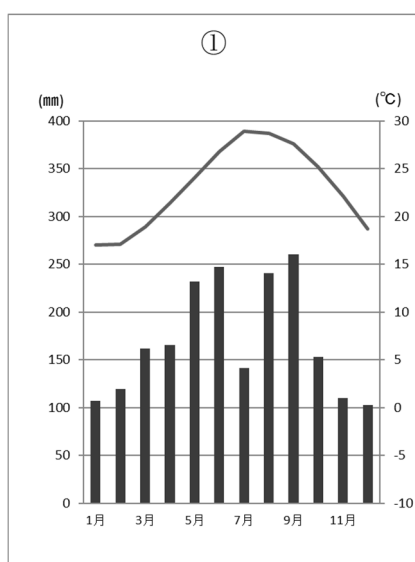
4 次のⅠの表は北海道、東京都、長野県、沖縄県の面積、人口、海面漁獲量、合計特殊出生率を表したものであり、表中のAからDはいずれかの都道県が該当する。Ⅱの①から④の雨温図は、ⅠのAからDの都道県の都道県庁所在地の雨温図である。あとの(1)から(2)までの問いに答えなさい。

Ⅰ

都道県	面積 (km <sup>2</sup> )	人口 (万人)	海面漁獲量 (百t)	合計特殊出生率(人)
A	2194	1312	485	1.24
B	13562	208	0	1.59
C	83424	531	7499	1.29
D	2281	146	162	1.95

(「データブック オブ・ザ・ワールド 2019 年度版」より作成)

Ⅱ



(「理科年表」より作成)

(1) AからDに入る都道府県として最も適切な組み合わせを、下のアからエまでの中から選んで、そのかな符号を書きなさい。

- ア A 北海道 B 長野県 C 東京都 D 沖縄県  
 イ A 東京都 B 北海道 C 沖縄県 D 長野県  
 ウ A 東京都 B 長野県 C 北海道 D 沖縄県  
 エ A 北海道 B 東京都 C 沖縄県 D 長野県

(2) 下の表は、りんご、もも、メロンの生産量の1位から3位を示したものである。下の表のX、YはIのAからDいずれかの都道府県をそれぞれ表している。XとYが表している都道府県をAからDまでの中から選んで、そのアルファベットを書きなさい。また、それぞれに当てはまる雨温図をIIの①から④までの中から選んで、その番号を書きなさい。

	りんご	もも	メロン
1位	青森県	山梨県	茨城県
2位	X	福島県	Y
3位	山形県	X	熊本県

(「データでみる県勢 2019年版」より作成)

5 次の文章を読んで、あとの(1)から(3)までの問いに答えなさい。

現代は気候変動や経済格差の拡大、イギリスのEU離脱問題などの不安定な要素を数多く抱えている。日本でも、1990年代前半から続いた経済的な低迷期を抜け、経済状況の指標である①株価が少しずつ上昇してきたものの、少子高齢化や、経済格差の問題などがクローズアップされてきている。社会の変化はいちじるしく、これまでの②経済理論では説明がつかない状況も生まれている。そのような中、今後はAIやIoTの進展が期待されると共に、人々の③働き方にも大きな変化が訪れることが予想されている。

(1) ①株価の上昇は、経済の状況が良いことを表すとされるが、それはなぜか。その説明として最も適当なものを、次のアからエまでの中から選んで、そのかな符号を書きなさい。

ア 株式会社の業績が不調で、株に対する需要が減っていると考えられるため。

イ 株価が上がることで物価が下落し、好景気につながると考えられるため。

ウ 株式会社の業績が好調で、株に対する需要が高まっていると考えられるため。

エ 株式会社の株が多く売られ、利益を手にする人が増えていると考えられるため。

(2) ②経済理論について述べた文として適当なものを、次のアからエまでの中から2つ選んで、そのかな符号を書きなさい。

ア 不景気の時には、増税して税収を増やし、公共サービスの充実をはかる。

イ 不景気の時には、公共事業を拡大し、景気を刺激する。

ウ 好景気の時には、公共事業を拡大し、さらに景気を加速させる。

エ 好景気の時には、増税することで景気の熱を冷ます。

(3) ③働き方について、次の資料ⅠとⅡから読み取れる内容として適当なものを、次のアからエまでの中から2つ選んで、そのかな符号を書きなさい。

- ア 2000年以降、「労働力人口」と「正規の職員・従業員」が共に減少している。
- イ 2000年以降、「労働力人口」と「非正規の職員・従業員」が共に減少している。
- ウ 2000年以降、「労働力人口」と「非労働力人口」が共に減少している。
- エ 失業率は完全失業者数を労働力人口数で割れば求められる。2015年の失業率は約3%である。

Ⅰ 労働力人口・非労働力人口

	2000年	2010年	2015年
労働力人口	6766万人	6632万人	6598万人
うち就業者	6446万人	6298万人	6376万人
うち完全失業者	320万人	334万人	222万人
非労働力人口	4057万人	4473万人	4473万人

(総務省統計局「労働力調査」より作成)

Ⅱ 雇用形態別労働者の割合の推移

	2000年	2010年	2015年
役員	364万人	370万人	348万人
正規の職員・従業員	3630万人	3374万人	3304万人
非正規の職員・従業員	1273万人	1634万人	1980万人
雇用者計	5267万人	5508万人	5632万人

(総務省統計局「労働力調査」より作成)

6 次の文章を読んで、あとの(1)から(3)までの問いに答えなさい。

現在、市邨高校では①国連に協力して②難民支援や③SDGs(持続可能な開発目標)をテーマに文化祭展示を行うなどの活動を行っている。

(1) ①国連について述べた文として適当なものを、次のアからオまでの中から2つ選んで、そのかな符号を書きなさい。

- ア 日本は今まで、安全保障理事会の常任理事国をつとめたことは一度もない。
- イ 環境問題や人権問題についてのみ扱い、戦争については扱わない。
- ウ 国連予算の各国ごとの負担額に応じて、票が割り当てられる総会がおかれている。
- エ 停戦や選挙監視などの平和維持活動を行っている。
- オ 現在では、加盟していない国は存在しない。

(2) ②難民支援について、難民とは「人種、宗教、国籍、政治的意見または特定の社会集団に属するなどの理由で、自国にいと迫害を受けるか、あるいは受けるおそれがあるために他国に逃れた」人々と定義されている。これを踏まえて、難民となった人々には、人が生まれながらにして持つ基本的人権のうち、どのような権利が保障されていないと言えるか。その理由と共に答えなさい。

(3) ③SDGs (持続可能な開発目標)について、国連は全ての人々にとってよりよい、持続可能な未来を築くため、17の達成すべき目標を掲げている。このうち、「難民問題」を解決することは、以下に掲げる17の目標のどれと関連すると考えられるか。1つ選び番号で答え、また、選んだ理由を書きなさい。

